

この本の特徴

この本は、中学受験^{じゅっけん}をめざす新小学4年生のための春期講習用教材^{しゅんきこうしゅうよう}です。4年生のはじめに学習^{ないう}する内容を基本^{きほん}から応用^{おうよう}まで、わかりやすくまとめてあります。

この本の使い方

- **学習の要点**……各単元で学習することがらを、ポイントごとにわかりやすくまとめてあります。問題を解く前にしっかりと理解^{りかい}しましょう。
- **発展学習**^{はってん}……各単元の内容をさらに深めることができるよう、発展的なことがらをまとめています。「学習の要点」をしっかりと理解できたら読んでみましょう。「発展学習」からの問題には発^はがついていません。
- **基本問題**……各単元で身につけなければならない内容を、穴埋め形式^{あなう}やかんたんな問いで確認^{かくにん}できるようにしています。まちがえたりわからなかったりしたときには、「学習の要点」にもどって確認しましょう。
- **練習問題**^{れんしゅう}……知識の定着をはかる問題です。「基本問題」と「練習問題」で学習したことがらを確実に覚^{かくじつ}えるようにしましょう。
- **応用問題**……「練習問題」よりも少しむずかしい問題がふくまれています。「学習の要点」「発展学習」をよく読んで、じっくりと解いてみましょう。
- **学習のまとめ**……各単元の重要なことがらをまとめてあります。ひと通り学習が終わったら、復習^{ふくしゅう}しましょう。

も く じ

小4・社会

1 わたしたちのくらしと水	2
2 わたしたちのまわりの環境	10
3 地図の見方	18
4 日本の地方区分と都道府県	26
地図記号を覚えよう	34
日本の地方区分を覚えよう	35
日本の都市を覚えよう	36

4 日本の地方区分と都道府県

1 日本の地方区分

(1) 8つの地方

日本は、北海道地方・東北地方・関東地方・中部地方・近畿地方・中国地方・四国地方・九州地方というように、8つの地方に分かれています。

▼日本の地方区分



(2) そのほかの地方区分

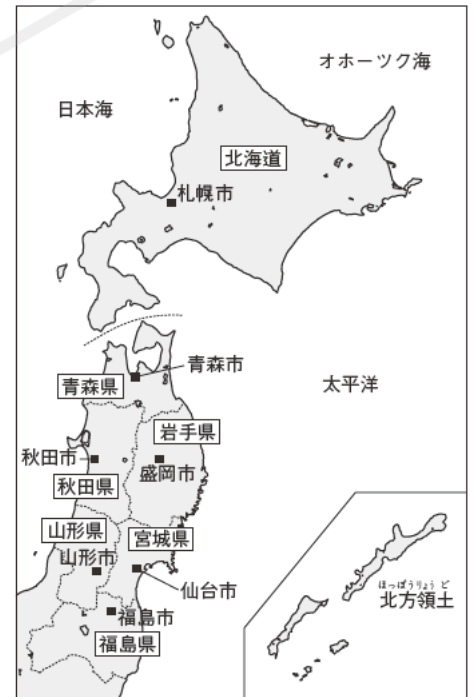
関東地方に山梨県を加えて首都圏とよぶことがあります。また、中部地方は日本海側の北陸地方と、太平洋側の東海地方に分けられることがあります。中国地方も、日本海側の山陰地方と、瀬戸内海側の山陽地方に分けられることがあります。

2 日本の都道府県

(1) 北海道地方 (面積83424km²・人口532万人)

北海道地方は、北海道のみで成り立っています。北海道の道庁所在地(政治の中心)は札幌市です。

▼北海道・東北地方の道県



(2) 東北地方 (面積66947km²・人口884万人) … 6つの県

中心は宮城県(県庁所在地は仙台市)です。また、太平洋側の岩手県は宮城県と同じく、県と県庁所在地(盛岡市)の名前がちがっています。

▼関東地方の都県



(3) 関東地方 (面積32433km²・人口4325万人) … 1都6県

日本でもっとも人口が多い地方で、中心は東京都(日本の首都)です。県名と県庁所在地の名前や表記がちがうのは、群馬県(前橋市)、栃木県(宇都宮市)、茨城県(水戸市)、埼玉県(さいたま市)、神奈川県(横浜市)、千葉県(千葉市)です。

(4) 中部地方 (面積66807km²・人口2136万人) … 9つの県

日本でもっとも県の数が多い地方で、中心は愛知県(県庁所在地は名古屋市)です。日本海側には新潟県や富山県、内陸には長野県や岐阜県、太平洋側には静岡県などがあります。また、県名と県庁所在地名がちがうのは、愛知県と石川県(金沢市)、山梨県(甲府市)です。

(5) 近畿地方(面積33126km²・人口2243万人)…畿内(都がおかれた場所)とよばれたことに由来

2府5県があり、中心は大

阪府です。県名と県庁所在地名がちがっているのは、三重県(津市)・滋賀県(大津市)・兵庫県(神戸市)です。

▼中部地方の県



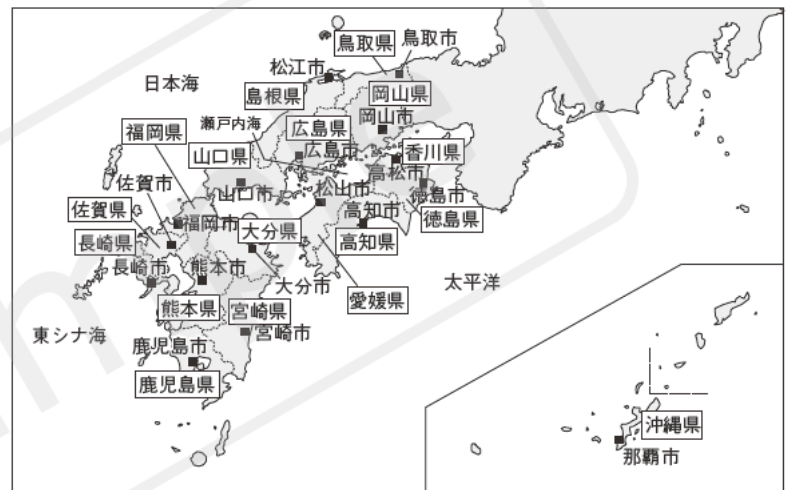
▼近畿地方の府県



(6) 中国地方(面積31922km²・人口737万人)…5つの県

中心は広島県です。島根県だけが県と県庁所在地(松江市)の名前がちがいます。

▼中国・四国・九州地方の県



(7) 四国地方(面積18804km²・人口379万人)…4つの県

太平洋に面した高知県が最大の面積をもち、瀬戸内海側の香川県(高松市)と愛媛県(松山市)は県名と県庁所在地名がちがっています。

(8) 九州地方(面積44512km²・人口1436万人)…8つの県

中心は福岡県です。西部の長崎県と南部の鹿児島県には多くの島々があります。また、もっとも南に位置し、県と県庁所在地(那覇市)の名前がちがう沖縄県では、美しいさんごしょうが見られます。

発展学習

(1) 都道府県の面積

大きい順…①北海道 ②岩手県 ③福島県 小さい順…①香川県 ②大阪府 ③東京都

(2) 都道府県の人口

多い順…①東京都 ②神奈川県 ③大阪府 少ない順…①鳥取県 ②島根県 ③高知県

(3) 海に面していない県(内陸県)

栃木県・群馬県・埼玉県・山梨県・長野県・岐阜県・滋賀県・奈良県の8つの県。

(4) 県庁所在地よりも人口の多い都市がある県

福島県・群馬県・静岡県・三重県・山口県の5つの県。

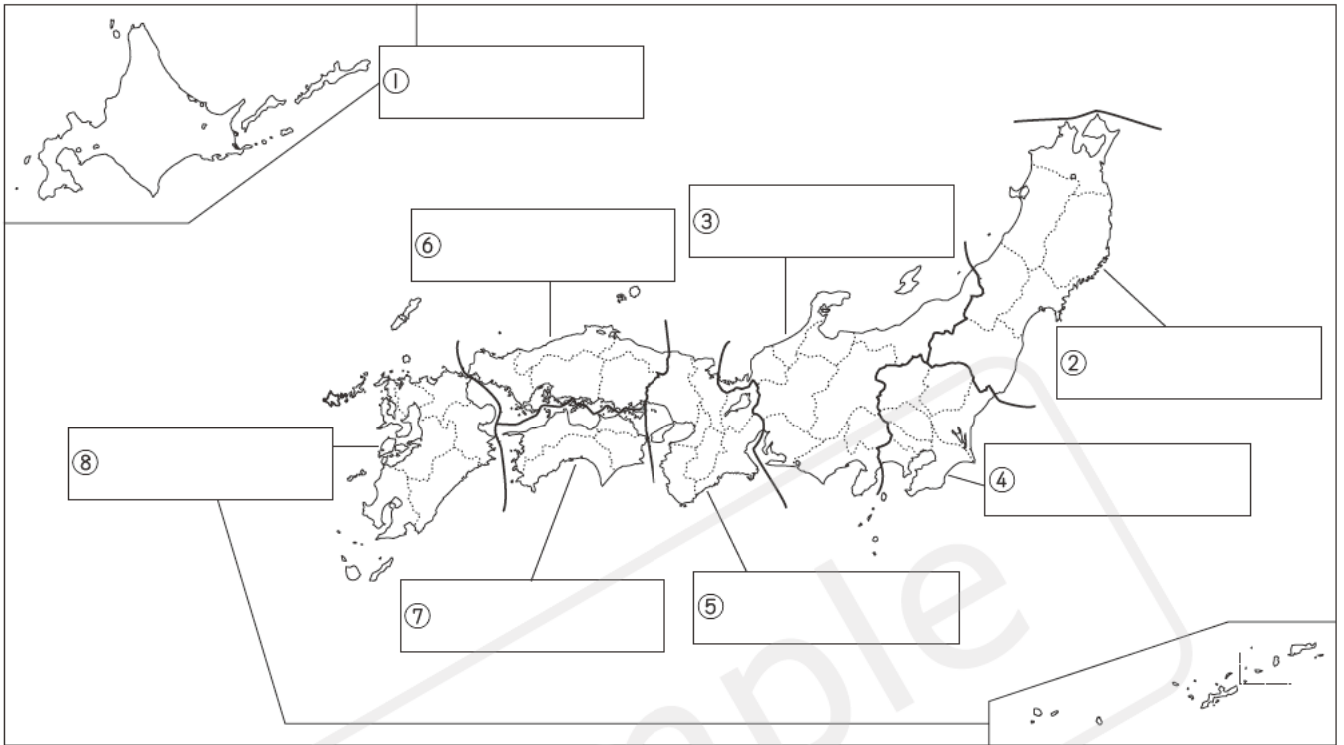
県名と漢字

① 動物名…群馬県・鳥取県・熊本県・鹿児島県 ② 漢数字…千葉県・三重県

基本問題

1 日本の地方区分について、次の問いに答えなさい。

□(1) 次の地図の①～⑧にあてはまる地方の名前を答えなさい。



□(2) 地方の特色^{とくしよ}についてまとめた次の文の、にあてはまる地方の名前を答えなさい。

都道府県の数

1 日本でもっとも都道府県の数が多いのは、① 地方である。

2 日本でもっとも都道府県の数が少ないのは、② 地方である。

面積

1 日本でもっとも面積が広いのは、③ 地方である。

2 日本でもっとも面積がせまいのは、④ 地方である。

人口

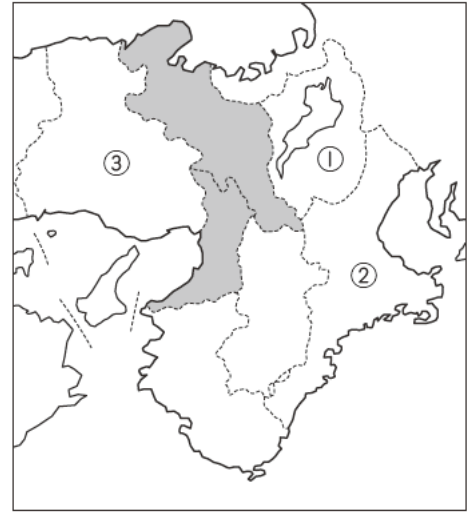
1 日本でもっとも人口が多いのは、⑤ 地方である。

2 日本でもっとも人口が少ないのは、⑥ 地方である。

2 近畿地方について、右の地図を見て、次の問いに答えなさい。

□(1) 近畿地方の名前は、「都がおかれた場所」をしめすことばに由来しています。そのことばを漢字2字で答えなさい。

□(2) 地図中に でしめした2つは、県ではなく、何とよばれていますか。漢字1字で答えなさい。



□(3) 地図中の①～③は、県と県庁所在地の名前がちがっています。それぞれの県庁所在地名を答えなさい。

① 市 ② 市 ③ 市

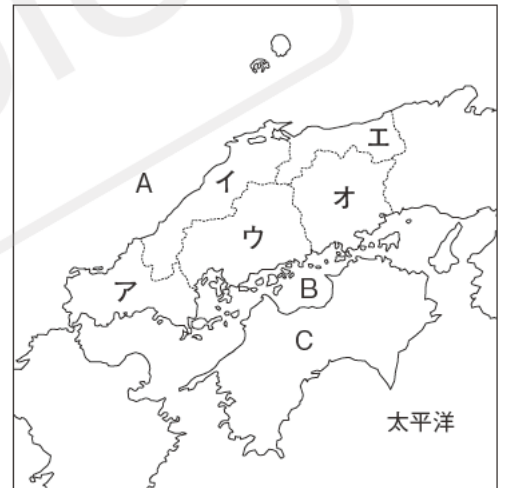
3 中国地方について、右の地図を見て、次の問いに答えなさい。

□(1) 地図中のA・Bの海をそれぞれ何といいますか。

A B

□(2) 次の文章の にあてはまることばを答えなさい。

中国地方は、さらに2つの地方に分けられることがあります。そのうち、中国地方の北側に位置し、地図中のAの海に面した地いきは ① 地方とよばれています。また、中国地方の南側に位置し、地図中のBの海に面した地いきは ② 地方とよばれています。



□(3) 中国地方には、県名と県庁所在地名がことなる県が1つあります。それはどれですか。地図中のア～オから ^{えら} 選びなさい。

□(4) 地図中のBの海をはさんで、中国地方の南に位置するCの地方にはいくつの県がありますか。

練習問題

1 となりあう県 長野県は日本でもっともとなりあう県が多く、その数は8つにおよびます。このことをしめした右の地図を見て、次の問いに答えなさい。

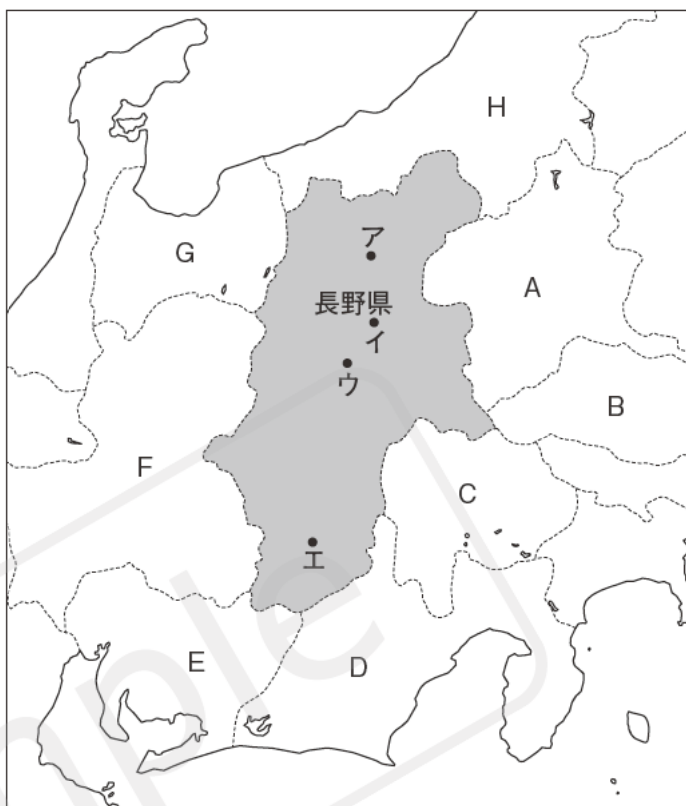
□(1) 長野県がある地方の名前を答えなさい。

地方

□(2) 長野県とはちがう地方にある県はどれですか。A～Hからすべて選びなさい。

□(3) 長野県の県庁所在地の位置を、地図中のア～エから1つ選びなさい。

(4) 次の①～⑧の文について、^{ないよう}内容が正しいものには○，まちがっているものには×で答えなさい。



⊗□① Aの県は、動物の名前が県名に入っている。

⊗□② Bは陸地に^{かこ}囲まれた内陸県である。このような内陸県は、近畿地方や九州地方にも見られる。

□③ Cの県と関東地方の1都6県を加えた地いきを、首都圏とよぶことがある。

⊗□④ Dの県には、県庁所在地となっている都市よりも人口が多い都市がある。

□⑤ Eは、県名と県庁所在地名が同じである。

□⑥ Fは、県名と県庁所在地名が同じである。

□⑦ Gは富山県である。この富山県がある地方を東海地方とよぶことがある。

□⑧ Hの県は、日本海に面している。

2 県の形 次のA～Hはいずれかの県の地図です。■は県庁所在地をしめています。これらについて、あとの問いに答えなさい。

A(東北地方)



B(関東地方)



C(近畿地方)



D(近畿地方)



E(中国地方)



F(四国地方)



G(四国地方)



H(九州地方)



(※縮尺は一定ではありません。一部の島を省略しています。)

① Aは日本で2番目に面積が広い都道府県です。Aの県名を答えなさい。 県

② BとCは県名に漢数字が入っている県です。それぞれの県名を答えなさい。
 B 県 C 県

③ Dは海に面していない内陸県ですが、日本最大の湖があることで有名です。Dの県名を答えなさい。 県

④ EとHは県名に動物の名前が入っている県です。それぞれの県名を答えなさい。なお、Eは日本でもっとも人口が少ない県です。
 E 県 H 県

⑤ Fは四国地方で最大の面積をもつ県ですが、日本では3番目に人口が少ない県です。Fの県名を答えなさい。 県

⑥ Gは日本でもっとも面積がせまい県です。Gの県名を答えなさい。 県

⑦ A～Hのうち、県の名前と県庁所在地の名前がちがう県をすべて選びなさい。

応 用 問 題

1 データで見る日本の地方 次の表は、地方ごとの面積や人口、都道府県の数をもとめたものです。これを見て、あとの問いに答えなさい。

地方	面積	人口	都道府県の数
A	83424km ²	532万人	1
B	66947km ²	884万人	6
C	66807km ²	2136万人	9
D	44512km ²	1436万人	8
E	32433km ²	4325万人	7
F	33126km ²	2243万人	7
G	31922km ²	737万人	5
H	18804km ²	379万人	4

(2017年)

(2018/19年版「日本国勢図会」)

□(1) 表の中でもっとも面積が小さいHにあてはまる地方の名前を答えなさい。

地方

□(2) 北海道地方にあてはまるものを、表の中のA～Gから1つ選びなさい。

□(3) 中部地方にあてはまるものを、表の中のA～Gから1つ選びなさい。

□(4) (3)について、そのように答えた理由を説明しなさい。

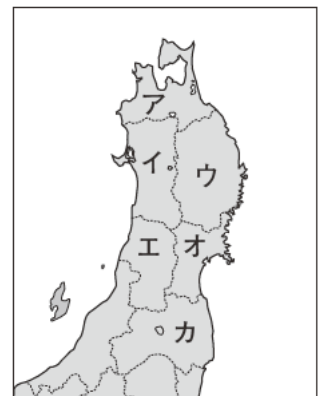
□(5) 関東地方にあてはまるものを、表の中のA～Gから1つ選びなさい。

□(6) (5)について、そのように答えた理由を説明しなさい。

(7) 東北地方について、次の問いに答えなさい。

□① 右の地図中のア～カから、県名と県庁所在地名がちがう県を2つ選びなさい。

⊗□② 右の地図中のア～カから、県庁所在地よりも人口の多い都市がある県を1つ選びなさい。



○ ○ ○ 学 習 の (ま と め) ○ ○ ○

◆ 次の(1)~(21)の()にあてはまることば・数字を答えなさい。

日本の地方区分

- (1) 日本は()つの地方に分かれています。
- (2) 関東地方には、東京都と()つの県があります。
- (3) 関東地方と山梨県を加えた地いきを()とよびます。
- (4) ()地方は、もっとも多くの都道府県がある地方です。
- (5) (4)の地方のうち、新潟県や富山県など日本海に面した地いきを()地方とよびます。
- (6) (4)の地方のうち、愛知県や静岡県といった太平洋に面した地いきを()地方とよびます。
- (7) 中国地方では、日本海側を()地方とよびます。
- (8) 中国地方では、瀬戸内海側を()地方とよびます。

- (1) ----- つ
- (2) ----- つ
- (3) -----
- (4) ----- 地方
- (5) ----- 地方
- (6) ----- 地方
- (7) ----- 地方
- (8) ----- 地方

日本の都道府県

- (9) 北海道地方は北海道だけで成り立っています。北海道の道庁所在地は()市です。
- (10) 東北地方の中心は()県であり、その県庁所在地は仙台市です。
- (11) 近畿地方は、2つの()と5つの県から成り立っています。
- (12) 近畿地方の中心は()です。
- (13) 北は瀬戸内海、南は太平洋に面する()地方には、4つの県があります。
- (14) 九州地方の中心は()です。
- (15) 九州地方でもっとも南に位置するのは沖縄県であり、その県庁所在地は()市です。

- (9) ----- 市
- (10) ----- 県
- (11) -----
- (12) -----
- (13) ----- 地方
- (14) -----
- (15) ----- 市

◎ 都道府県の特徴

- (16) 日本でもっとも面積が広い都道府県は北海道であり、もっとも面積がせまい都道府県は()です。
- (17) 日本でもっとも人口が多い都道府県は()です。
- (18) 日本でもっとも人口が少ない都道府県は()です。
- (19) 栃木県や群馬県、奈良県などのように、海に面していない県のことを()県といいます。
- (20) 日本には、県庁所在地よりも人口が多い都市がある県が5つあります。そのうち、()県は東北地方にあります。
- (21) 日本には、県名に動物の名前が入っている県が4つあります。そのうち、()県と鹿児島県は九州地方にあります。

- (16) -----
- (17) -----
- (18) -----
- (19) ----- 県
- (20) ----- 県
- (21) ----- 県